

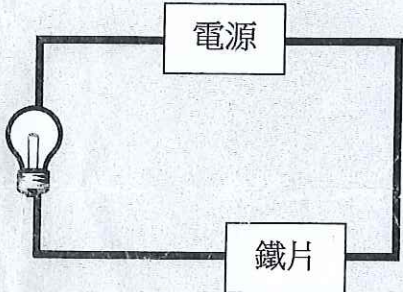

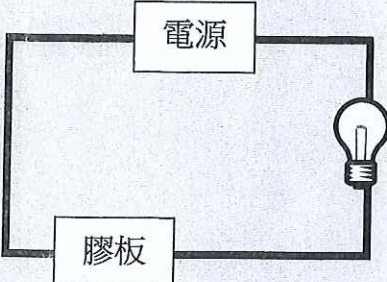
上學期第三冊單元二：電的探究

五年級 B 班 姓名：文梓軒 (24) 成績：A  
14/12

### 電路解構

以下電路是閉合電路嗎？試完成下表。



	燈泡會亮起來嗎？	是閉合電路嗎？
	<p>會 / 不會</p>	<p>是 / 不是 (如不是，我會 _____ _____ 使它變成閉合電路。)</p>
	<p>會 / 不會</p>	<p>是 / 不是 (如不是，我會 用一條更長的電線來接 駁電源的正負極， 使它變成閉合電路。)</p>
	<p>會 / 不會</p>	<p>是 / 不是 (如不是，我會 把膠板變成鐵 片， 使它變成閉合電路。)</p>