

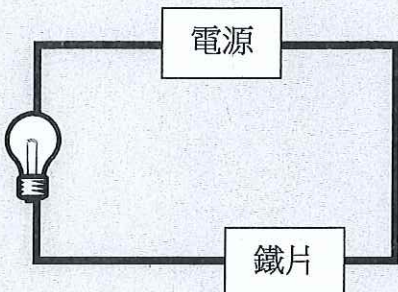
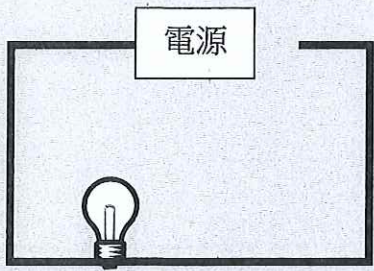
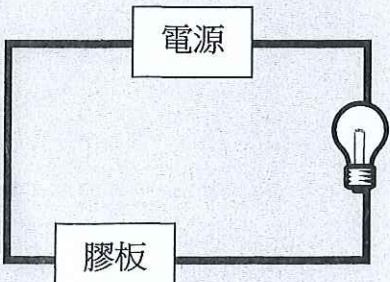
上學期第三冊單元二：電的探究

五年級 A 班 姓名：余曉婷 (29) 成績：A
14/12

電路解構

以下電路是閉合電路嗎？試完成下表。



	燈泡會亮起來嗎？	是閉合電路嗎？
	<p>會 / 不會</p> <p>✓</p>	<p>是 / 不是 (如不是，我會</p> <hr/> <p>使它變成閉合電路。)</p>
	<p>會 / 不會</p> <p>✓</p>	<p>是 / 不是 (如不是，我會</p> <p><u>更換另外較長的電線</u></p> <p><u>然後接駁電池的正負極</u></p> <p>使它變成閉合電路。)</p>
	<p>會 / 不會</p> <p>✓</p>	<p>是 / 不是 (如不是，我會</p> <p><u>把膠板換成鐵片</u></p> <hr/> <p>使它變成閉合電路。)</p>